


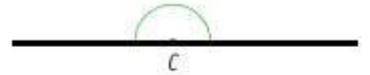
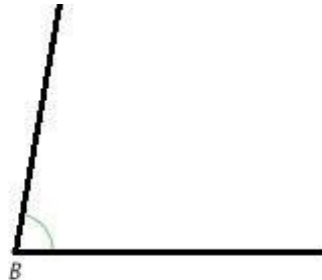
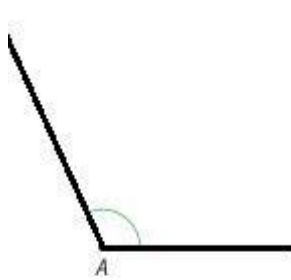


Naam: _____

Klas: _____

1. Meet onderstaande hoeken.



2. Noteer hier je gevonden antwoorden (doe dit met potlood, dan kan je het nog verbeteren. (let op je mag er maximaal 1 graad naast zitten)

$\angle A = \dots\dots\dots$

$\angle D = \dots\dots\dots$

$\angle B = \dots\dots\dots$

$\angle E = \dots\dots\dots$

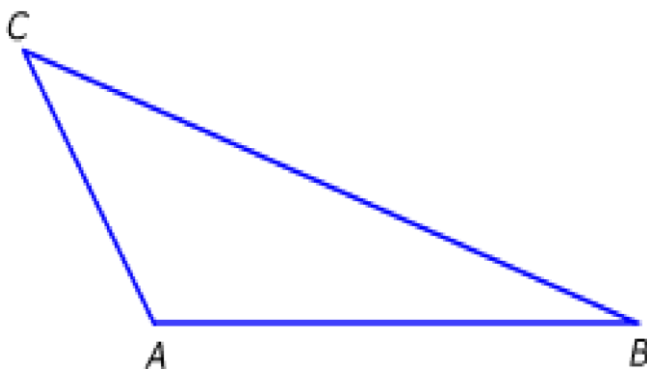
$\angle C = \dots\dots\dots$

$\angle F = \dots\dots\dots$

3. Welk van de hoeken vraag 1 zijn stomp?

Waarom heb jij voor die hoeken gekozen?

4. Probeer alle hoeken van de driehoek op te meten met je geodriehoek. Noteer de antwoorden hier:



$\angle A =$

.....

.....